

العنوان سلسلة تمارين

المستوى السنة 1 من التعليم الاساسي





نوع الدرس الرياضيات

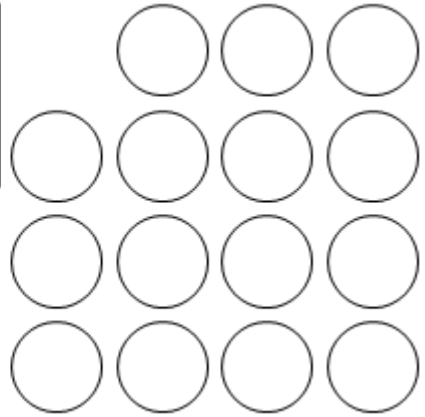
إسم الدرس الصّفر

سلسلة تمارين: الصفر

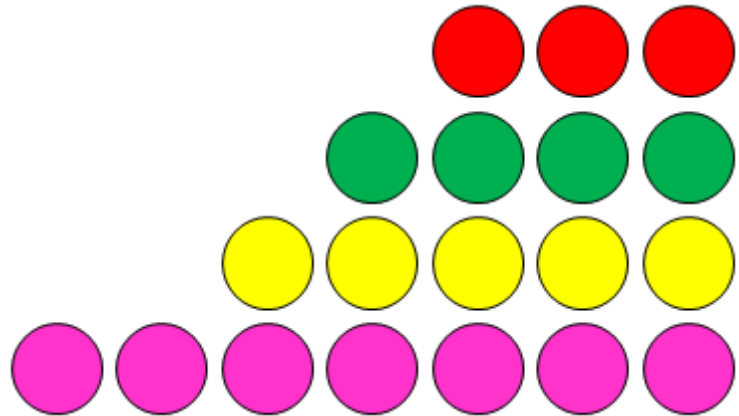
1.

- ألاحظ الجدول المصاحب وألون الأقراص:

				
0	7	4	3	5



الإجابة



2.

- أحيط العناصر حسب العدد المطلوب:



7




6



0



9



8

الإجابة:




7




6



0



9



8

3.

- أَلَوْنُ الْخَانَةِ الصَّحِيحَةِ حَسَبَ اللَّوْنِ الْمَطْلُوبِ:







تِسْعَةٌ	وَاحِدٌ	سَبْعَةٌ	اِثْنَانِ	9
أَرْبَعَةٌ	خَمْسَةٌ	سَبْعَةٌ	ثَلَاثَةٌ	5
ثَمَانِيَةٌ	وَاحِدٌ	تِسْعَةٌ	صِفْرٌ	0
اِثْنَانِ	وَاحِدٌ	سِتَّةٌ	سَبْعَةٌ	6
ثَلَاثَةٌ	ثَمَانِيَةٌ	خَمْسَةٌ	اِثْنَانِ	8
سَبْعَةٌ	صِفْرٌ	تِسْعَةٌ	أَرْبَعَةٌ	7

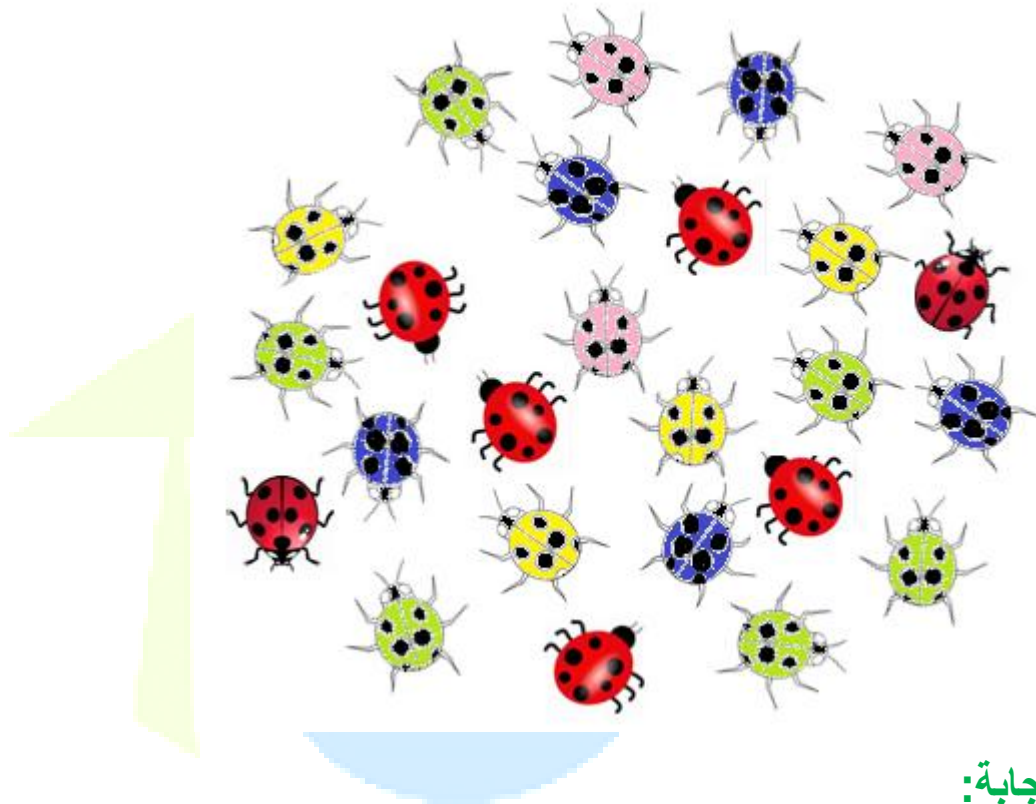
الإجابة:

تِسْعَةٌ	وَاحِدٌ	سَبْعَةٌ	اِثْنَانِ	9
أَرْبَعَةٌ	خَمْسَةٌ	سَبْعَةٌ	ثَلَاثَةٌ	5
ثَمَانِيَةٌ	وَاحِدٌ	تِسْعَةٌ	صِفْرٌ	0
اِثْنَانِ	وَاحِدٌ	سِتَّةٌ	سَبْعَةٌ	6
ثَلَاثَةٌ	ثَمَانِيَةٌ	خَمْسَةٌ	اِثْنَانِ	8
سَبْعَةٌ	صِفْرٌ	تِسْعَةٌ	أَرْبَعَةٌ	7







4.

أَحْسِبُ الدُّعُوقَاتِ حَسَبَ أَلْوَانِهَا ثُمَّ أَمْلَأُ الْجَدُولَ:



الإجابة:

					
4	5	7	0	3	6