

العنوان سلسلة تمارين

المستوى السنة 1 من التعليم الاساسي


نوع الدرس الرياضيات

إسم الدرس العددين 1، 3


سلسلة تمارين: العدان 1، 3

1.

- لَوْنُ بِطَاقَةِ الْعَدَدِ الْمُنَاسِبِ.

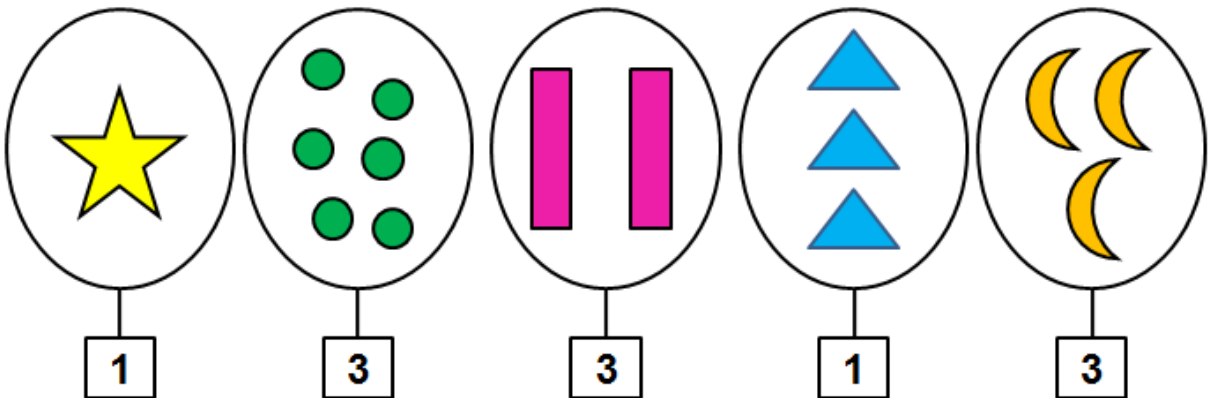


الإجابة:

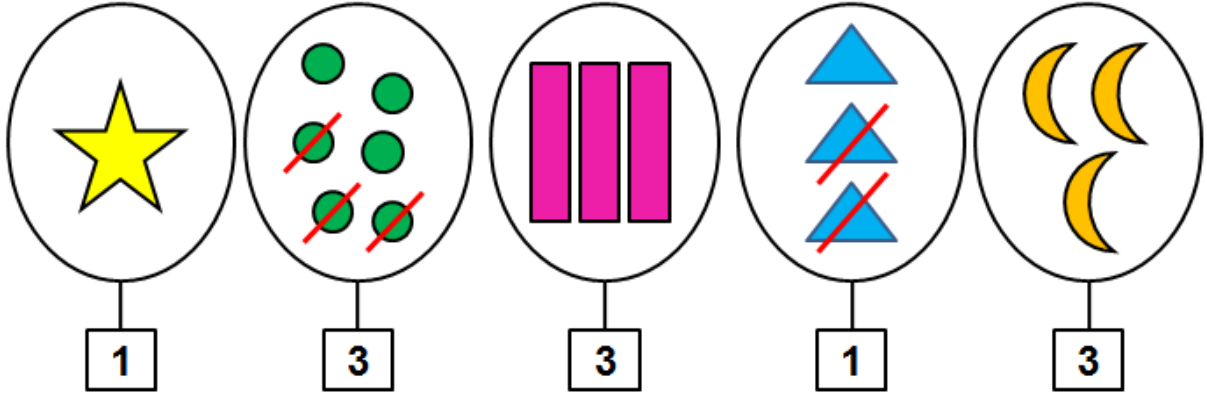


2.

أَشْطَبُ الْعُنَاصِرِ الزَّائِدَةِ فِي كُلِّ مَجْمُوعَةٍ وَأَكْمَلُ عُنَاصِرِ الْمَجْمُوعَةِ النَّاقِصَةِ:









الإجابة:









3.

أَخْتَارُ الْعِدَدَ الْمُنَاسِبَ لِكُلِّ مَجْمُوعَةٍ وَأَشْتَطِبُ الْخَاطِئَ:

	4	3
	5	3
	4	1
	7	4
	1	5
	2	5

الإجابة:

	4	3
	5	3
	4	1
	7	4
	1	5
	2	5

4.
- أَحِيطْ بِخَطِّ مُغْلَقٍ كُلِّ مَجْمُوعَةٍ ثُمَّ اكْمِلْ تَعْمِيرَ الْجَدْوَلِ.








						

الإجابة:








						
4	1	2	1	3	5	3

صِلْ بِمَا يُنَاسِبُ:

2	•	•		•	•	أربعة
3	•	•		•	•	اثنان
5	•	•		•	•	خمسة
1	•	•		•	•	واحد
4	•	•		•	•	ثلاثة

الإجابة:

2	•	•		•	•	أربعة
3	•	•		•	•	اثنان
5	•	•		•	•	خمسة
1	•	•		•	•	واحد
4	•	•		•	•	ثلاثة

Red lines connect the numbers to the correct counts: 2 to 4 (cupcakes), 3 to 2 (penguins), 5 to 5 (roses), 1 to 1 (penguins), and 4 to 3 (butterflies).