

مدخل لدراسة النقود

نظام قيس

الهدف: تدريب الطفل على استعمال القطع النقدية والتصرف فيها للقيام بعمليات حسابية تخص البيع والشراء في الحياة اليومية . لذلك يستحسن طرح وضعيات مقتبسة من الواقع لتبسيط المفاهيم...

المراحل: التعرف على القطع النقدية والاوراق المالية وتصنيفها.

التعرف على قيمتها .

توظيف النقود في - حساب مبلغ مالي

- تمثيل مبلغ مالي

- اختصار المبالغ المالية ومبادلتها

- حل مسائل



saboura.net



التقود



القطع النقدية



الاوراق المالية

Saboura.net



النقود صنفان : قطع دائرية
معننية وتسمى : **قطع نقدية**
و اخرى ورقية و تسمى :
اوراق مالية

الاحظ
وافهم



saboura.net






saboura.net

هناك قطع بيضاء
فضية واخرى صفراء
ذهبية اللون.

الاحظ
وافهم



saboura.net



الاحظ
واقفهم

هناك قطع كبيرة
واخرى اصغر حجما.



saboura.net

Saboura.net



نشترى ببعضها كل ما نحتاجه
وندخر البعض الآخر لوقت
الحاجة...

افهم و
اعرف

ماذا نفعل بالنقود
يا ابي؟



saboura.net



يمكن مرافقة الاطفال الى المغازه او السوق لرؤية اثمان
البضائع ومعاينة عملية البيع و الشراء او مسرحية احداث بيع
وشراء في القسم او مشاهدة فيديو ...

الاحظ
واقفهم

لكل شيء
ثمن.



saboura.net



افهم و
اعرف



saboura.net



مي اختصار لكلمة **مليم**
وتطلق على القطع التالية:



د معناها **دينار** وهي اسم

العملة التونسية
وتساوي **الف** **مليم**
علمني



العدد المكتوب على كل
قطعة يحدد قيمتها



$$1 \text{ مي} \leftarrow \bullet =$$



$$2 \text{ مي} \leftarrow \bullet \bullet =$$



$$5 \text{ مي} \leftarrow \bullet \bullet \bullet \bullet \bullet =$$



$$10 \text{ مي} \leftarrow \boxed{\text{10 dots}} =$$



saboura.net

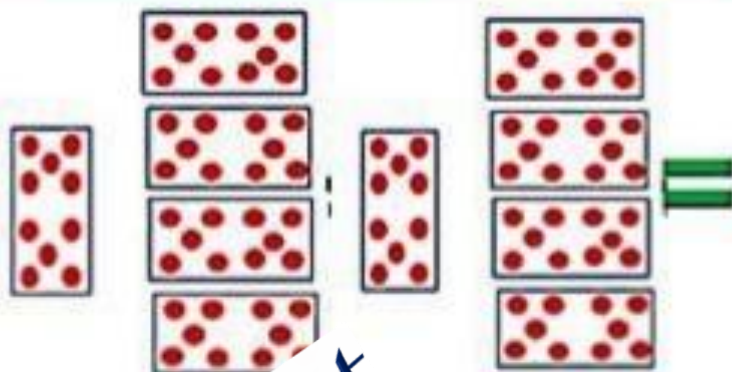
$$20 \text{ مي} \leftarrow \boxed{\text{20 dots}} =$$



$$50 \text{ مي} \leftarrow \boxed{\text{50 dots}} =$$




100 مي



العدد
المكتوب
على كل
قطعة يحدد
قيمتها

200 مي

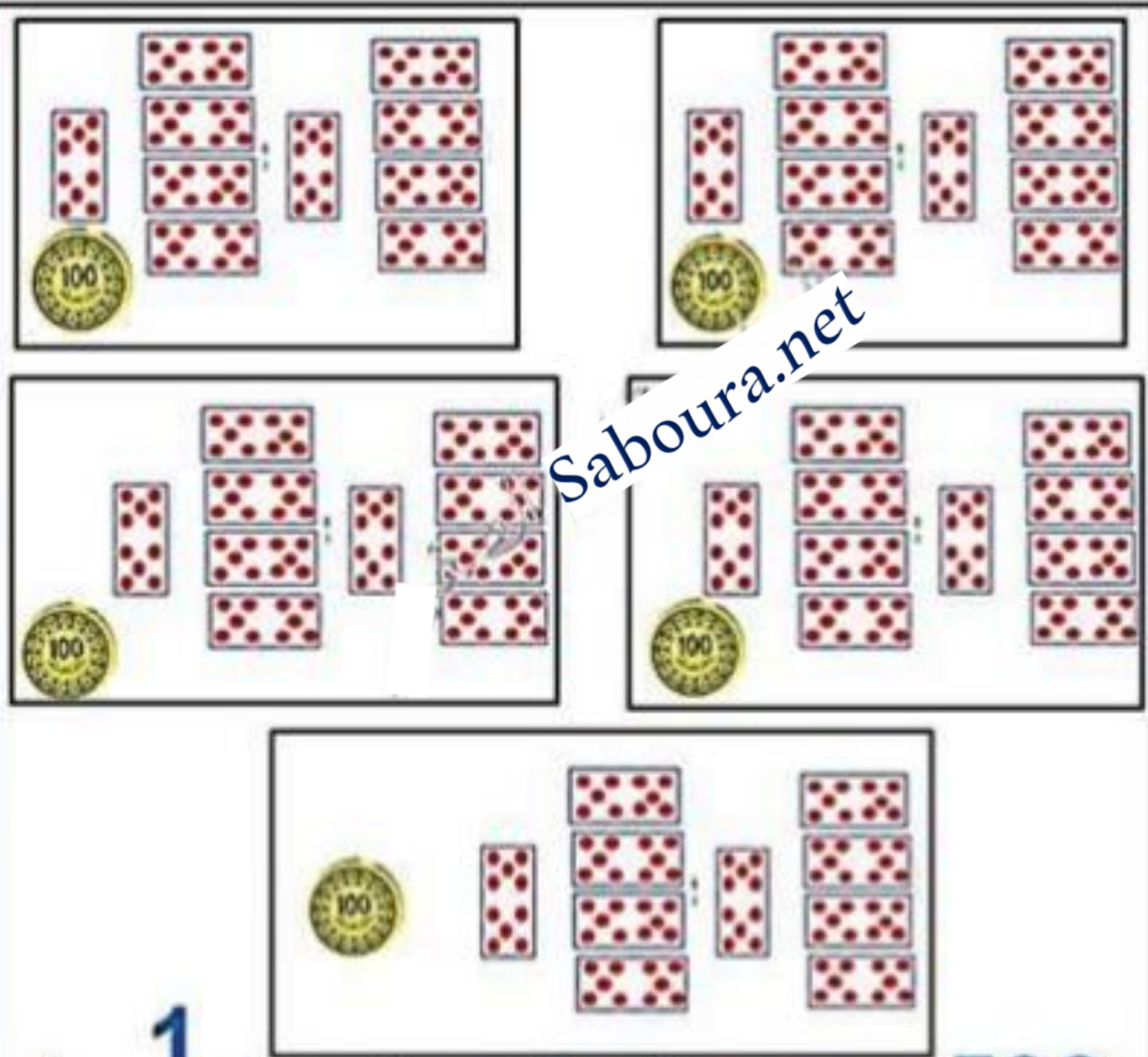



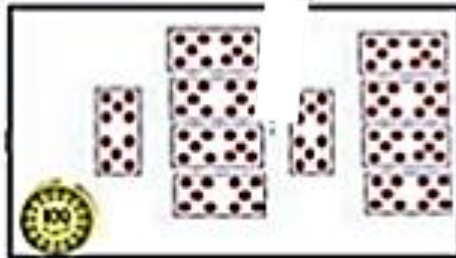

العدد
المكتوب
على كل
قطعة يحدد
قيمتها



Saboura.net

$$500 \text{ مي} = \text{نصف دينار} = \frac{1}{2} \text{ د}$$





العدد
المكتوب
على كل
قطعة يحدد
قيمتها



1000 مي = 1 دينار = 1 د

اصنف حسب المنازل

عشرات الالاف

الالاف

المئات

العشرات

الاحاد



اتعرف الاوراق المالية



خمسة دنانير



عشرة دنانير



عشرون دینارا



saboura.net



20 د

احسب القطع المعدنية

كل قطعة امثلها بمثلث . اذا عدد المثلثات = عدد القطع

5

5



اميز بين عدد
القطع وقيمتها.



احسب قيمة القطع اي اجمع
الاعداد المكتوبة فيها.

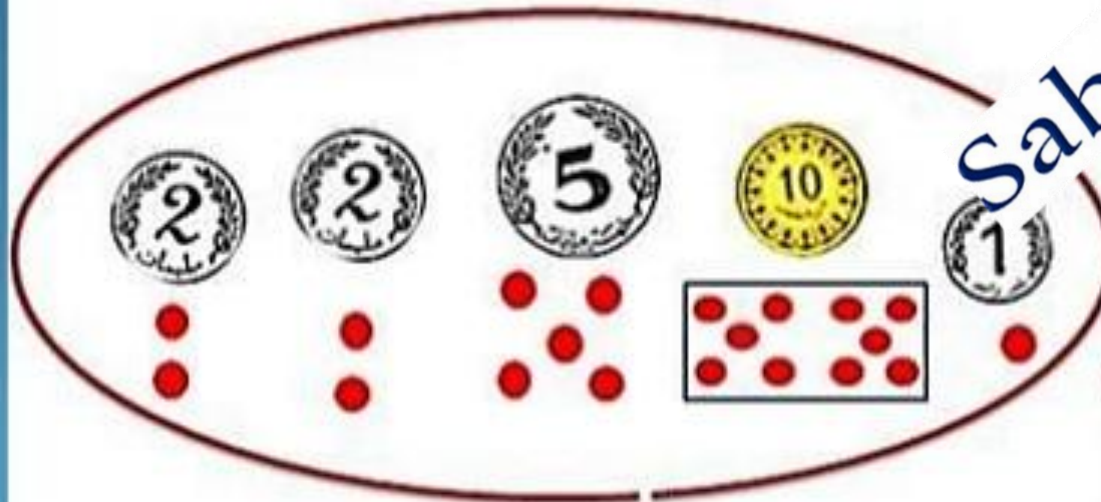
مثلنا العدد بدائرات حمراء. اذا

عدد الدائرات الحمراء = **قيمة** القطع

المبلغ المالي

20 سي

20



ما الفرق بين
عدد القطع
وقيمتها؟



القطع	عدد ها	قيمتها او المبلغ
	5 قطع نقدية	18 مي
	5 قطع نقدية	750 مي
	5 قطع نقدية	17 د

Saboura.net



saboura.net

خمسون ديناراً



saboura.net



50

ابدل القطع البيضاء بما يعادل قيمتها من القطع الصفراء



Saboura.net



ابدل القطع النقدية بقطعة واحدة تكافئ قيمتها



saboura.net



Saboura.net

ابدل القطع النقدية بما يعادل قيمتها من اوراق مالية



Saboura.net

اتعرف القطع النقدية واسمها

وضعايات
استكشافية و
تدريبات

اعطتني امي هذه النقود لأضعها
في الحصالة وطلبت مني ان
اسمها ثم اضعها بالترتيب من
الاصغر الى الاكبر . فهل
تساعدني؟



Saboura.net



اعطائي والدي هذه القطع وطلب مني
ان ادخر منها 250 مي
فهل تساعدوني يا احبابي؟



Saboura.net



saboura.net

احسب المبلغ ثم اختار القطع التي ستدخرها البنت

مها هذه قطع كنت اشترى بها ما اشاء من الحلوى
والبسكوت لما كنت صغيرا مثلك . فهل يمكنك التعرف عليها
وحسابها؟



Saboura.net



اعطت الجدة لأحفادها هذه القطع وقالت لهم من عنده اكبر مبلغ؟
قال عمر انا لان عندي 5 قطع وقال احمد بل انا لان 6مي اكبر
من 5مي وقال سامي لا انا عندي اكثر منكما لان القطعة 5مي
اكبر حجما من القطع التي عندكما. من الصحيح حسب رأيك؟



سامي



احمد



عمر

امثل الاثمان باقل ما يمكن من القطع او الاوراق المالية



50300 مي

4255 مي

630 مي

60 مي

Saboura.net

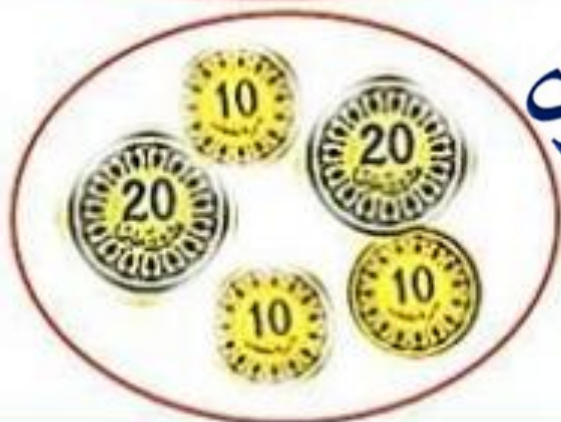
اوصل القطع بقيمتها في كل مرة



162 مي



70 مي



15 مي



saboura.net

Saboura.net

حساب مبلغ مالي

احسب المبلغ المالي الذي
ستضعه منى في الحصالة

